



الجزء الأول: (12 نقطة)

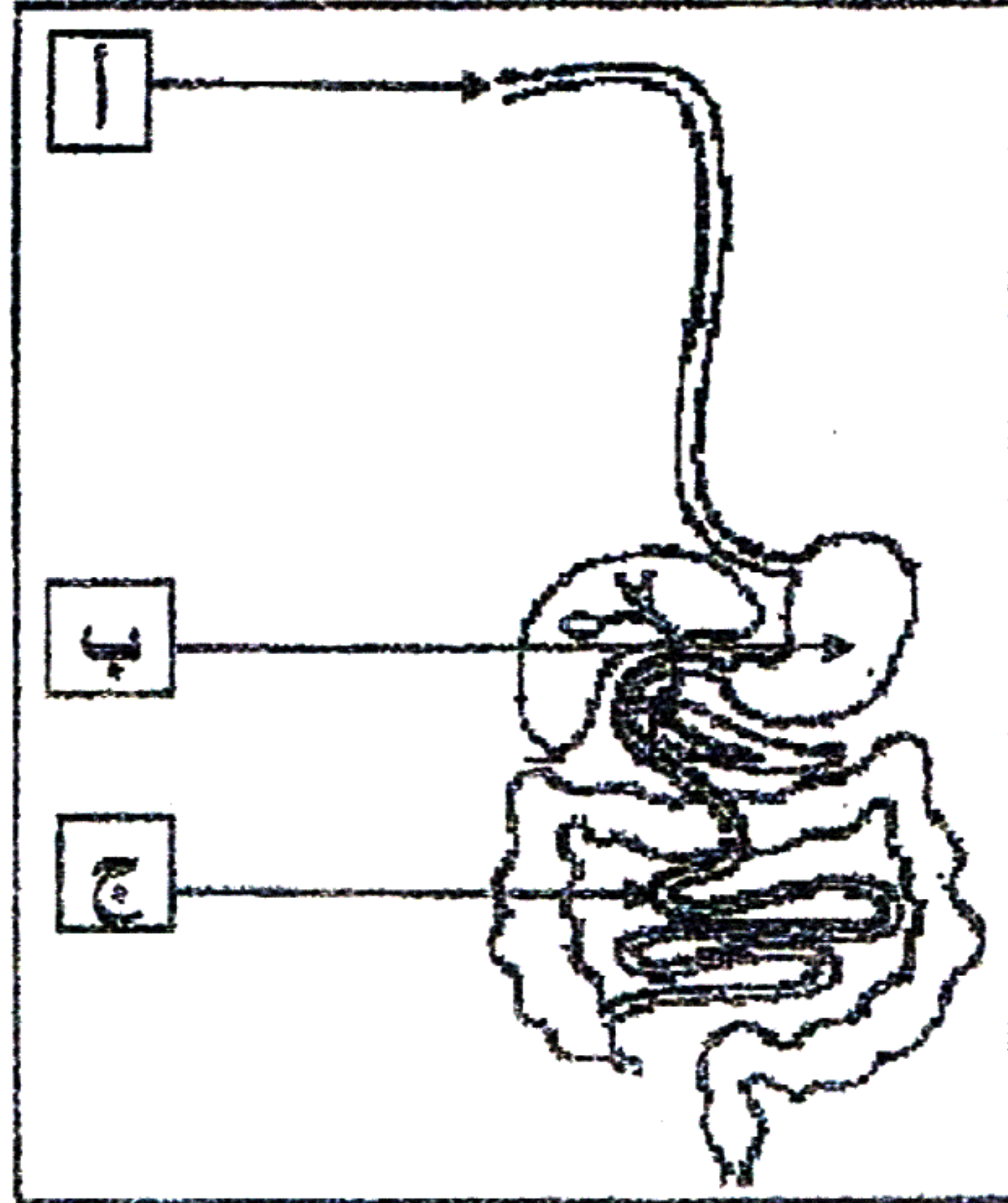
التمرين الأول: (06 نقاط)

تناول شخص بسرعة، وجبة غذائية تتكوّن من طبق اللحم بالزيتون، قطعة خبز وماء، ف شعر باضطرابات هضمية على مستوى المحطة (ب) الموضحة في الوثيقة المقابلة.

التعليمات:

01- سمّ المحطات (أ، ب، ج).

02- اشرح سبب الاضطرابات الهضمية على مستوى المحطة (ب).



الوثيقة 01


التمرين الثاني: (06 نقاط)

من السلوكات الإنسانية التبرع بالدم (نقل الدم) لشخص مصاب لإنقاذ حياته، لكن قد تحدث عواقب خطيرة أثناء عملية نقل الدم بسبب عدم احترام إجراءات وشروط (قواعد) أساسية.

ادرس الوثيقتين 01 و 02 وأجب عن التعليمات التالية:

الزمر الدموية	أجسام مضادة Rh D	أجسام مضادة AB	أجسام مضادة B	أجسام مضادة A	
O ⁺	<input checked="" type="checkbox"/>	<input type="checkbox"/>	<input type="checkbox"/>	<input type="checkbox"/>	الشخص المصاب
?	<input type="checkbox"/>	<input checked="" type="checkbox"/>	<input checked="" type="checkbox"/>	<input checked="" type="checkbox"/>	الشخص 01
?	<input checked="" type="checkbox"/>	<input checked="" type="checkbox"/>	<input type="checkbox"/>	<input checked="" type="checkbox"/>	الشخص 02
?	<input checked="" type="checkbox"/>	<input type="checkbox"/>	<input type="checkbox"/>	<input type="checkbox"/>	الشخص 03
		<input type="checkbox"/>	<input checked="" type="checkbox"/>		تفتّر
		<input type="checkbox"/>	<input type="checkbox"/>		عدم تفتّر

الوثيقة 01



الوثيقة 02

01- استخرج الزمر الدموية للأشخاص (01) و (02) و (03).

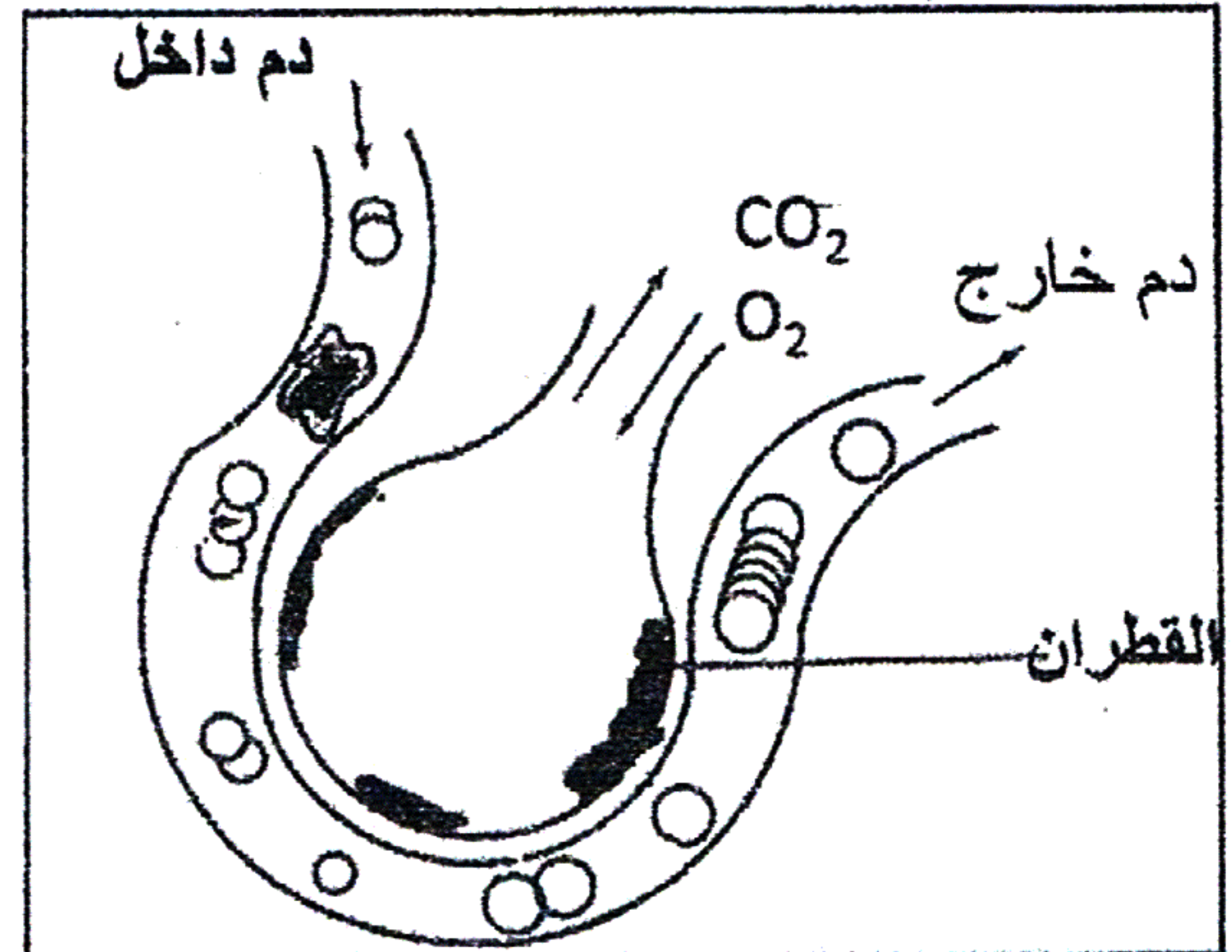
02- فسر علميًا إمكانية إنقاذ الشخص المصاب.

الجزء الثاني: (08 نقاط)

وضعية الإدماج:


التدخين آفة اجتماعية يعود ضررها على المدخن والأشخاص المحيطين به (التدخين السلبي)، تنتج عنه اختلالات وظيفية عضوية من بين أعراضها: ضعف الجسم، صعوبة التنفس، وأمراض خطيرة منها سرطان الحنجرة. لأجل المساهمة في محاربة هذه الآفة تُفترح عليك الوثائق التالية:

يؤثر التبغ كمخدر ضعيف على منطقة الشعور بالمتعة في المخ، بسبب مادة النيكوتين المسؤولة عن التبعية النفسية والبدنية للمدخن، كما بيّنت الدراسات العلمية أن متعاطي التبغ أكثر عرضة للقرحة المعدية واختلال في وظيفة الكبد.



الوثيقة 01: سنخ رنوي لمدخن

الوثيقة 02



تأثيرها	بعض مكونات السجارة
يؤثر على الأوعية الدموية و المخ	النيكوتين
مادة مسرطنة (السرطان)	البولونيوم (عنصر مشع)
صعوبة التنفس	القطران
فقر الدم	الرصاص

الوثيقة 03

بالاعتماد على الوثائق ومكتسباتك أجب عن التعليمات التالية:

(01) - استخراج الوظائف الحيوية للعضوية المتضررة من آفة التدخين.

(02) - فسّر الأعراض الناجمة عن هذه الآفة .

(03) - قدم ثلاث (03) نصائح مبررة لتفادي هذه الآفة.